











✚ Görsel ve harflerle ipucu verilen kelimeleri bulup karşlarına yazınız.

S 	→	<input type="text"/>	 K	→	<input type="text"/>
 	→	<input type="text"/>	H  N	→	<input type="text"/>
K  T	→	<input type="text"/>	B  	→	<input type="text"/>
10  M	→	<input type="text"/>	R  TI	→	<input type="text"/>

✚ İki resim arasındaki 10 farkı bulup kırmızı kalemle işaretleyiniz.



✚ Karışık halde verilen hecelerden kelime oluşturunuz.

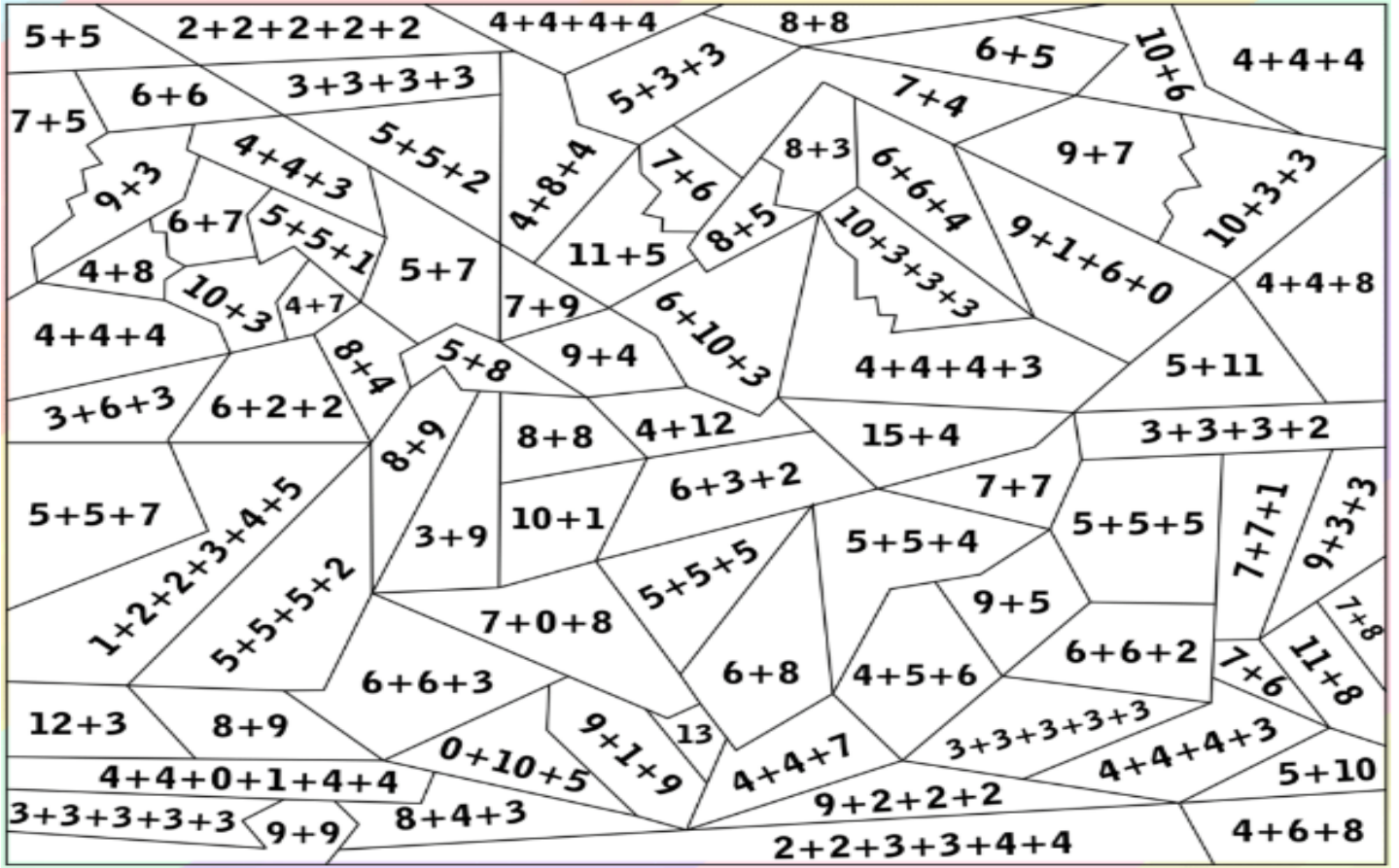
rım	sak	sa	→	
lik	rin	de	→	
ma	dur	don	→	
ğa	ba	kur	→	
lem	lik	ka	→	
pa	ğan	pa	→	
da	may	noz	→	

şam	ba	çar	→	
dal	san	ye	→	
pat	ya	pa	→	
çe	te	pe	→	
zı	kır	mı	→	
tu	fa	ra	→	
fön	le	te	→	

Toplama işlemlerinin alanlarını, sonuçlarına göre istenen renklerle boyayınız.

10	→	Kırmızı	11	→	Kahverengi	12	→	Sarı	13	→	Turuncu	14	→	Pembe
----	---	---------	----	---	------------	----	---	------	----	---	---------	----	---	-------

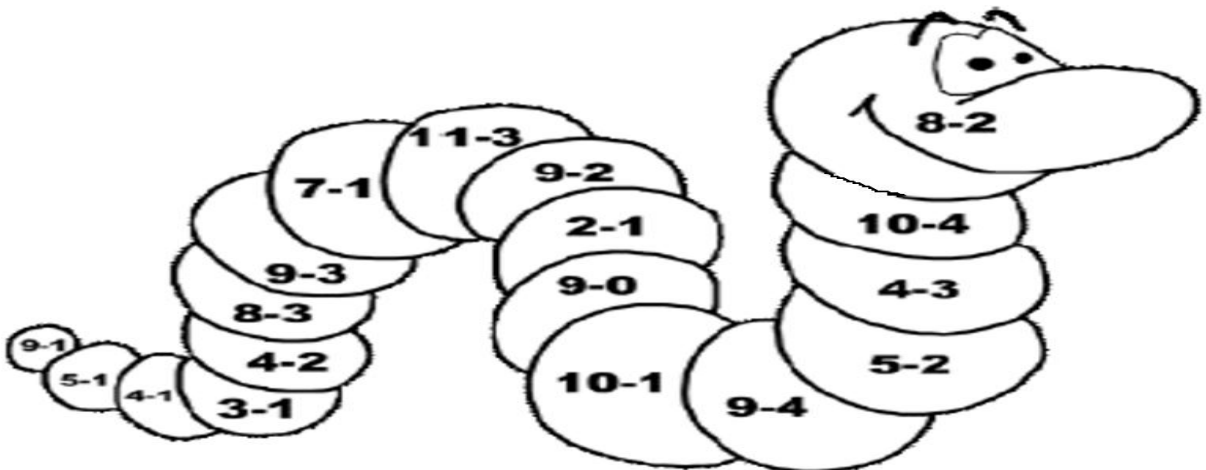
15	→	Yeşil	16	→	Mavi	17	→	Gri	18	→	Siyah	19	→	Mor
----	---	-------	----	---	------	----	---	-----	----	---	-------	----	---	-----



Çıkarma işlemlerinin sonuçlarına göre tırtılı boyayınız.

1	→	Kırmızı	2	→	Kahverengi	3	→	Koyu Mavi	4	→	Yeşil	5	→	Mor
---	---	---------	---	---	------------	---	---	-----------	---	---	-------	---	---	-----

6	→	Sarı	7	→	Turuncu	8	→	Gri	9	→	Açık Mavi
---	---	------	---	---	---------	---	---	-----	---	---	-----------



Örnekteki gibi verilen kelimenin son iki harfiyle yeni kelime türetiniz.

para	→ radyo	→ yorgan	→ anten	→ enkaz
fayda				
şirket				
arsa				
dünya				
yöntem				

Aşağıdaki soruları okuyunuz. Karşlarına 4 adet cevap yazınız.

1	Sıcak olan 4 şey yaz.	→				
2	Evde olan 4 eşya ismi yaz.	→				
3	Uçabilen 4 şey yaz.	→				
4	Tehlikeli olan 4 hayvan yaz.	→				
5	Aylardan 4 tanesini yaz.	→				
6	Tekeri olan 4 şey yaz.	→				

Zıt anlamlı kelimeleri içeren kalpleri aynı renge boyayınız.



✚ Aşağıdaki iki işlemli problemleri çözünüz.

8 sayısına 7 ekleyiniz.
Ardından bulduğunuz
sayıdan 4 çıkarınız. Sonuç
kaç oldu?

Çözüm

Ben 7 yaşımdayım. Abim
benden 5 yaş büyüktür.
Abim ve ben toplam kaç
yaşımdayız?

Çözüm

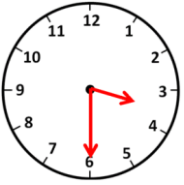
Salih'in 9 sarı ve 5 kırmızı
misketi var. 6 misketini
kaybetti. Geriye kaç
misketi kaldı?

Çözüm

✚ Toplama işlemlerindeki verilmeyen toplananları bulunuz.

$$\begin{array}{l} \text{Çiçek} + 6 = 14 \quad | \quad \text{Çiçek} + 7 = 13 \quad | \quad \text{Çiçek} + 3 = 13 \quad | \quad \text{Çiçek} + 2 = 11 \\ 8 + \text{Çiçek} = 15 \quad | \quad 4 + \text{Çiçek} = 12 \quad | \quad 5 + \text{Çiçek} = 12 \quad | \quad \text{Çiçek} + 9 = 17 \end{array}$$

✚ Verilen saatlerin doğru okunuşlarını boyayınız.



Saat dört buçuk

Saat üç buçuk

Saat altı buçuk



Saat altı

Saat yedi

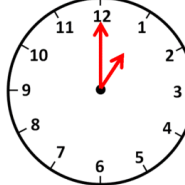
Saat beş



Saat bir buçuk

Saat on iki buçuk

Saat üç buçuk



Saat on bir

Saat on iki

Saat bir

✚ Paraların miktarlarını altlarına yazınız.

